

Hlubší vlastnosti funkcí

Lokální a globální extrémy funkcí

Nalezněte lokální extrémy funkcí

1. $f(x) = x^3 - 6x^2 + 9x - 4, x \in \mathbb{R}$

2. $f(x) = e^x \sin x, x \in \mathbb{R}$

3. $f(x) = x^{\frac{1}{3}}(1-x)^{\frac{2}{3}}, x \in \mathbb{R}$

Dokažte následující nerovnosti

4. $xy \leq \frac{x^p}{p} + \frac{y^q}{q}, x, y > 0, 1 < p, q < \infty, \frac{1}{p} + \frac{1}{q} = 1$ (Youngova nerovnost)

5. $e^x > x + 1, x \in \mathbb{R} \setminus \{0\}$

6. Dokažte, že funkce

$$f(x) = \begin{cases} e^{-\frac{1}{x^2}} & \text{pro } x \neq 0 \\ 0 & \text{pro } x = 0 \end{cases}$$

má v bodě 0 ostré lokální minimum a funkce

$$g(x) = \begin{cases} xe^{-\frac{1}{x^2}} & \text{pro } x \neq 0 \\ 0 & \text{pro } x = 0 \end{cases}$$

nemá v bodě 0 lokální extrém, přestože platí $f^{(n)}(0) = g^{(n)}(0) = 0, n = 1, 2, \dots$

7. Nalezněte globální extrémy funkce $f(x) = x^2 - 4x + 6$ na intervalu $[-3, 10]$.

8. Nalezněte supremum a infimum funkce $f(x) = xe^{-0.01x}$ na intervalu $(0, \infty)$.

9. Nádobu naplněnou vodou se svislou stěnou výšky h stojí na vodorovné rovině. Vypočítejte výšku otvoru nádoby nad vodorovnou rovinou tak, aby voda stříkala co nejdále.

10. Mezi dvěma svislými tyčemi, jejichž vzdálenost je d , je upevněna za konce niť délky l . Rozdíl výšek upevnění je h . Po niti může volně klouzat hmotný bod. Najděte rovnovážnou polohu bodu za podmínky, že potenciální energie má být minimální.

Monotónie funkcí

11. Nalezněte intervaly, na kterých je funkce $f(x) = x^n e^{-x}$, $n \in \mathbb{N}$, rostoucí a klesající.
12. Pro atomové teplo prvku platí

$$C_v = 3R \frac{x^2 e^x}{(e^x - 1)^2},$$

kde $x = \frac{T^*}{T}$, T je absolutní teplota v kelvinech, T^* je tzv. charakteristická teplota a R je plynová konstanta. Dokažte, že atomové teplo prvku je rostoucí funkce teploty.

Konvexita, konkávnost

Nalezněte intervaly, kde je funkce konvexní/konkávni, a najděte inflexní body

13. $f(x) = e^{-x^2}$, $x \in \mathbb{R}$
14. $f(x) = x \sin \ln x$, $x \in \mathbb{R}^+$
15. Dokažte nerovnost $\frac{1}{2}(x^n + y^n) > \left(\frac{x+y}{2}\right)^n$, $x, y > 0$, $x \neq y$, $n > 1$ a vysvětlete její geometrický význam.

Lokální a globální extrémny: viz předchozí cvičení

Def: f je spojitá na (a,b) . Pak f je konvexní na (a,b) , pokud pro libovolné $\lambda \in (0,1)$

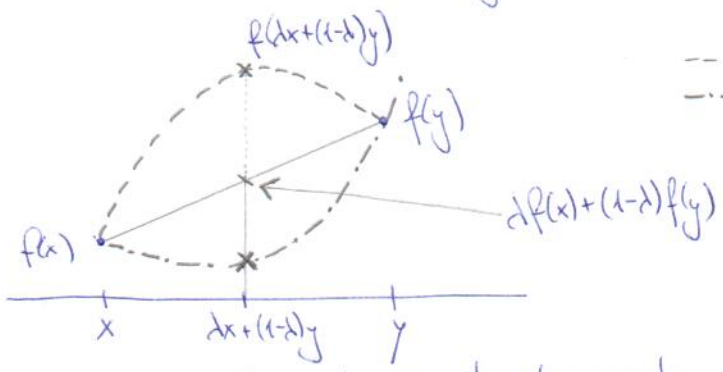
platí $\forall x,y \in (a,b), x < y: f(\lambda x + (1-\lambda)y) \leq \lambda f(x) + (1-\lambda)f(y)$

f je konkávní, pokud platí opačná nerovnost

Náhled: U konvexní fce leží každá tečna pod grafem funkce.

U konkávní fce leží každá tečna nad grafem funkce.

Nerovnost z definice:



----- konkávní fce
..... konvexní fce

Inflexní bod: bod, ve kterém se mění konvexitá v konkávnost nebo naopak

Konvexitá a konkávnost v bodě: f je konvex. v bodě x_0 , pokud $\exists \delta > 0$ tak, že

$\forall x \in P_\delta(x_0):$ bod $[x, f(x)]$ leží nad tečnou ke grafu f v bodě x_0

Podobně konkávnost v x_0

6) $f(x) = e^{-1/x^2}$ pro $x \neq 0$
 $= 0$ pro $x = 0$

a) f je očividně spojitá, $\lim_{x \rightarrow 0} f(x) = \lim_{x \rightarrow 0} e^{-1/x^2} = 0$

b) $f'(x)$ pro $x \neq 0: f' = e^{-1/x^2} \cdot (-1) \cdot (-2) \cdot \frac{1}{x^3} = \frac{2e^{-1/x^2}}{x^3}$

a vidíme, že pro $x < 0$ je $f' < 0$ a f je klesající
a pro $x > 0$ je $f' > 0$ a f je rostoucí.

Proto je bod $x=0$ bodem lokálního i globálního minima.

~~$f(x)$~~ $g(x) = x e^{-1/x^2}$ pro $x \neq 0$
 $= 0$ pro $x = 0$

a) podobně g je očividně spojitá

b) $g'(x)$ pro $x \neq 0: g' = e^{-1/x^2} + x e^{-1/x^2} \cdot (-1) \cdot (-2) \cdot \frac{1}{x^3} = \frac{e^{-1/x^2}(x+2)}{x^2}$

a $g' > 0$ pro všechna $x \neq 0$, $\lim_{x \rightarrow 0} g' = 0$

Vyšší derivace budou všechny tvaru $\frac{e^{-1/x^2}}{x^n} \cdot P(x)$, kde P je polynom a $\lim_{x \rightarrow 0} e^{-1/x^2} \frac{P(x)}{x^n} = 0$

díky stálejší limitě (exp vždy vyhraje nad x^n)

Protože $g' > 0$ pro $x \neq 0$, v bodě $x=0$ není extrém.

8) $f(x) = x \cdot e^{-\frac{x}{100}}$

Nejprve limity v krajních bodech: $\lim_{x \rightarrow 0} x \cdot e^{-\frac{x}{100}} = 0$

$\lim_{x \rightarrow +\infty} x \cdot e^{-\frac{x}{100}} = 0$ (škálovací limita, exp vyhraje, kdo nevěří: l'Hospital " $\frac{x}{e^{\frac{x}{100}}}$ ")

Očividně je $f(x)$ na $(0, \infty)$ kladná fce, proto $\inf_{x \in (0, \infty)} f(x) = 0$ [minimum neexistuje]

$f'(x) = e^{-\frac{x}{100}} + x \cdot e^{-\frac{x}{100}} \cdot (-\frac{1}{100}) = e^{-\frac{x}{100}} \cdot (1 - \frac{x}{100})$

$f' = 0 : e^{-\frac{x}{100}} \cdot (1 - \frac{x}{100}) = 0 \quad e^{-\frac{x}{100}} > 0 \text{ vždy} \Rightarrow (1 - \frac{x}{100}) = 0$
 $x = 100$

$f' > 0$ pro $x < 100$
 $f' < 0$ pro $x > 100$ } $\Rightarrow x = 100$ je lok. max.

$f(100) = 100 \cdot e^{-1} = \frac{100}{e}$. Vzhledem k výše zjištěnému je to i globální maximum a supremum

$\sup_{x \in (0, \infty)} f(x) = \frac{100}{e}$

9) Délka dráhy vody: $d = v \cdot t$, kde v je rychlost v okamžiku opuštění nádoby, t je čas

Čas: $y = \frac{1}{2}gt^2$, kde y je výška, kterou hledáme. Tedy $t = \sqrt{\frac{2y}{g}}$

Rychlost: Bernoulliho rovnice: $\frac{1}{2}\rho v_i^2 + \rho g h_i + p_i = \frac{1}{2}\rho v_k^2 + \rho g h_k + p_k$

$i \dots$ uvnitř nádoby
 $e \dots$ vně nádoby

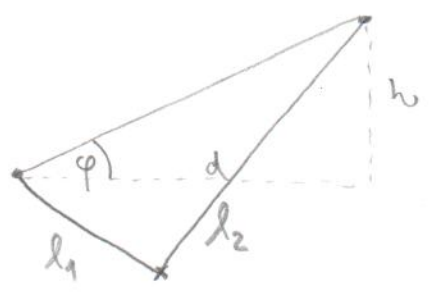
Víme: $v_i = 0, h_i = h_k = y, v_k = v, p_k = p_a \dots$ atmosférický tlak
 $p_i = p_a + (h-y)\rho g$

$\Rightarrow p_a + (h-y)\rho g = \frac{1}{2}\rho v^2 + p_a \Rightarrow \frac{1}{2}\rho v^2 = (h-y)\rho g$
 $v = \sqrt{2(h-y)g}$

$d(y) = v(y) \cdot t(y) = \sqrt{2(h-y)g} \cdot \sqrt{\frac{2y}{g}} = 2\sqrt{y(h-y)}$. Hledáme lokální max. na intervalu $y \in (0, h)$

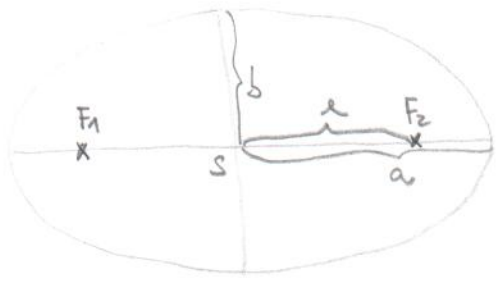
$d'(y) = 2 \cdot \frac{1}{2} \cdot \frac{1}{\sqrt{y(h-y)}} \cdot (h-y-y) = \frac{h-2y}{\sqrt{y(h-y)}}$

$d' = 0 : h = 2y \Rightarrow y = \frac{h}{2}$
 $d' > 0$ pro $y < \frac{h}{2} \Rightarrow y = \frac{h}{2}$ je lok. max
 $d' < 0$ pro $y > \frac{h}{2}$ i glob. max na $[0, h]$



$l_1 + l_2 = l \dots$ konstanta

Množina bodů, které mají součet vzdáleností od dvou daných bodů konstantní, je elipsa!



a... hlavní poloosa
b... vedlejší poloosa

Platí $2a = l$

Vzdálenost $|F_1S| = |F_2S| = \sqrt{a^2 - b^2} = c \dots$ excentricita
(Někdy se excentricitou nazývá poměr $\frac{c}{a} \in (0, 1)$)

My máme $2c = 2\sqrt{a^2 - b^2} = \sqrt{d^2 + h^2}$

$4a^2 - 4b^2 = d^2 + h^2$

$l^2 - 4b^2 = d^2 + h^2 \Rightarrow b = \frac{1}{2} \sqrt{l^2 - d^2 - h^2}$

Rovnice elipsy s rovnými osami: $\frac{(x-x_0)^2}{a^2} + \frac{(y-y_0)^2}{b^2} = 1$, kde (x_0, y_0) je střed

Parametry: $x = x_0 + a \cos t$
 $y = y_0 + b \sin t$ $t \in [0, 2\pi)$

Náš případ: zvolíme střed $(x_0, y_0) = (0, 0)$, ale elipsa je nakloněná o úhel φ , $\tan \varphi = \frac{h}{d}$, $\varphi = \arctan \frac{h}{d}$

Otočení o úhel φ :
 $X = x \cos \varphi - y \sin \varphi \Rightarrow X = a \cos t \cos \varphi - b \sin t \sin \varphi$
 $Y = y \cos \varphi + x \sin \varphi \Rightarrow Y = b \sin t \cos \varphi + a \cos t \sin \varphi$

Hledáme minimum funkce $Y(t)$: $Y(t) = b \cos t \cos \varphi - a \sin t \sin \varphi$

$Y(t) = 0 : b \cos t \cos \varphi = a \sin t \sin \varphi$

$\tan t = \frac{b}{a} \cot \varphi = \frac{b}{a} \cdot \frac{1}{\tan \varphi} = \frac{b}{a} \cdot \frac{d}{h} = \frac{d}{h} \cdot \frac{\sqrt{l^2 - d^2 - h^2}}{l}$

$\Rightarrow t = \arctan \left(\frac{d}{h} \cdot \frac{\sqrt{l^2 - d^2 - h^2}}{l} \right) + \pi$

(protože víme, že minimum je ve 3. kvadrantu, tedy s úhlem mezi $(\pi, \frac{3}{2}\pi)$)

11) $f(x) = x^n e^{-x}$

$f'(x) = nx^{n-1} e^{-x} + x^n e^{-x} \cdot (-1) = x^{n-1} e^{-x} (n-x)$

Stacionární body: $e^{-x} > 0 \forall x \Rightarrow x=0, x=n$

Znaménko $f'(x)$: $x < 0$: $n-x > 0, e^{-x} > 0, x^{n-1} < 0$ pro n sudé $\Rightarrow f' < 0$
 $x^{n-1} > 0$ pro n liché $\Rightarrow f' > 0$

$x \in (0, n)$: $n-x > 0, e^{-x} > 0, x^{n-1} > 0 \Rightarrow f' > 0$ pro

$x \in (n, +\infty)$: $n-x < 0, e^{-x} > 0, x^{n-1} > 0 \Rightarrow f' < 0$

Celkem: n sudé: f je klesající na $(-\infty, 0)$,
rostoucí na $(0, n)$,
klesající na (n, ∞)

n liché: f je rostoucí na $(-\infty, n)$,
klesající na $(n, +\infty)$

12) $C_v(T) = \frac{3RT^{*2}}{T^2} \cdot \frac{e^{T^*/T}}{(e^{T^*/T} - 1)^2}$

$C'_v(T) = (-2)3RT^{*2} \cdot T^{-3} \cdot \frac{e^{T^*/T}}{(e^{T^*/T} - 1)^2} + \frac{3RT^{*2}}{T^2} \left[\frac{e^{T^*/T} \cdot (-\frac{T^*}{T^2}) (e^{T^*/T} - 1)^{-2} - e^{T^*/T} \cdot 2(e^{T^*/T} - 1) \cdot (-\frac{T^*}{T^2}) e^{T^*/T}}{(e^{T^*/T} - 1)^4} \right]$

Hledáme, kde (pro jaká $T > 0$) je $C'_v(T) > 0$

$C'_v(T) = \frac{3RT^{*2}}{T^2} \cdot \frac{e^{T^*/T}}{(e^{T^*/T} - 1)^2} \left[-\frac{2}{T} + \frac{(-\frac{T^*}{T^2}) \cdot (e^{T^*/T} - 1)^{-2} + \frac{2T^*}{T^2} (e^{T^*/T} - 1) e^{T^*/T}}{(e^{T^*/T} - 1)^2} \right]$
 > 0

Tj. chceme: $-\frac{2}{T} - \frac{T^*}{T^2} + \frac{2T^*}{T^2} \cdot \frac{e^{T^*/T}}{e^{T^*/T} - 1} > 0 \quad \downarrow T > 0$

$-2 - \frac{T^*}{T} + 2 \frac{T^*}{T} \cdot \frac{e^{T^*/T}}{e^{T^*/T} - 1} > 0 \quad \downarrow T > 0$

$-2T - T^* + 2T^* \cdot \frac{e^{T^*/T}}{e^{T^*/T} - 1} > 0 \quad \downarrow e^{T^*/T} - 1 > 0$

$2T^* e^{T^*/T} > (2T + T^*) (e^{T^*/T} - 1) = 2T e^{T^*/T} + T^* e^{T^*/T} - 2T - T^*$

$T^* e^{T^*/T} - 2T e^{T^*/T} + 2T + T^* > 0$

$T^* e^{T^*/T} - 2e^{T^*/T} + 2 + \frac{T^*}{T} > 0 ?$

Označme $y = \frac{T^*}{T}$. $T \in (0, \infty) \Rightarrow \frac{T^*}{T} \in (0, \infty)$. Chceme ukázat, že $f(y) = ye^y - 2e^y + 2 + y > 0$ pro $y > 0$.

Lehce $f(0) = 0$. Spočítáme $f'(y) = ye^y + e^y - 2e^y + 1 = ye^y - e^y + 1$. Opět $f'(0) = 0$.

Spocítáme $f''(y) = ye^y + e^y - e^y = ye^y$. Zde lehce $f''(y) > 0$ pro $y > 0$.

Proto $f'(y)$ je rostoucí na $(0, +\infty)$. Protože $f'(0) = 0$, musí být $f'(y) > 0$ pro $y > 0$

Proto $f(y)$ je rostoucí na $(0, +\infty)$. Protože $f(0) = 0$, musí být $f(y) > 0$ pro $y > 0$.

Proto tedy $C_V'(T) > 0$ a tedy C_V je rostoucí fce proměnné T pro $T \in (0, +\infty)$.

13) $f(x) = e^{-x^2}$

$$f'(x) = e^{-x^2} \cdot (-2x) = -2xe^{-x^2}$$

$$f''(x) = -2 \cdot (e^{-x^2} + x \cdot e^{-x^2} \cdot (-2x)) = -2e^{-x^2} \cdot (1 - 2x^2)$$

$$f''(x) = 0 : 1 - 2x^2 = 0 \quad (\text{protože } e^{-x^2} > 0 \quad \forall x \in \mathbb{R})$$
$$x^2 = 1/2 \quad x = \pm \frac{\sqrt{2}}{2}$$

Pro $|x| < \frac{\sqrt{2}}{2}$ je $f''(x) < 0$ a $f(x)$ je konkávní

Pro $x \in (-\infty, -\frac{\sqrt{2}}{2})$ a $(\frac{\sqrt{2}}{2}, +\infty)$ je $f(x)$ konvexní, body $\pm \frac{\sqrt{2}}{2}$ jsou inflexní

14) DÚ

15) Jde o speciální případ z definice konvexnosti fce $f(x) = x^n$ (pro $n = 1/2$) na intervalu $(0, +\infty)$

$$f'(x) = nx^{n-1} \quad f''(x) = n(n-1)x^{n-2}$$

Protože dle předpokladu je $n > 1$, $n(n-1) > 0$
 $x^{n-2} > 0$,

máme $f''(x) > 0 \Rightarrow f$ je konvexní

4) Začneme tím, že $f(x) = \ln x$ je konkávní. $f'(x) = \frac{1}{x}$, $f''(x) = -\frac{1}{x^2} < 0 \quad \forall x > 0$

Z definice konkávnosti ($\lambda = 1/p$, $1-\lambda = 1/q$)

$$\ln\left(\frac{1}{p}x^p + \frac{1}{q}y^q\right) \geq \frac{1}{p}\ln x^p + \frac{1}{q}\ln y^q = \ln x + \ln y = \ln(xy)$$

Je-li $A \geq B$, pak $e^A \geq e^B$ (protože e^x je rostoucí fce)

$$\Rightarrow e^{\ln\left(\frac{1}{p}x^p + \frac{1}{q}y^q\right)} \geq e^{\ln(xy)}$$

$$\frac{x^p}{p} + \frac{y^q}{q} \geq xy$$

Důkaz je hotov.